



全国 学びの比較テスト

小学4年
算数

事前学習プリント

氏名

① 次の計算をしなさい。

(1)
$$\begin{array}{r} 1382 \\ + 638 \\ \hline \end{array}$$

(2)
$$\begin{array}{r} 125 \\ \times 32 \\ \hline \end{array}$$

(3) $15.7 - 3.14$

(4) $1 - \frac{3}{7}$

(5) $270 \div 3$

(6) $58 \div 2$

(7)
$$\begin{array}{r} 6 \overline{)654} \\ \hline \end{array}$$

(8)
$$\begin{array}{r} 7 \overline{)528} \\ \hline \end{array}$$

(9)
$$\begin{array}{r} 28 \overline{)198} \\ \hline \end{array}$$

(10)
$$\begin{array}{r} 47 \overline{)1222} \\ \hline \end{array}$$

② 次の問いに答えなさい。

(1) 1日に8問ずつ計算問題をときます。200問とくのに何日かかりますか。

_____日

(2) 263のおはじきを同じ数ずつになるように8人で分けました。1人何こもらえますか。

_____こ

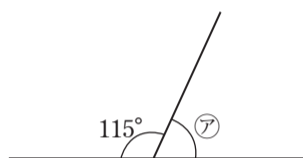
(3) 9Lの水を7dLずつ入れ物に分けていきます。

全部の水を入れるのに、入れ物は何こ必要ですか。

_____こ

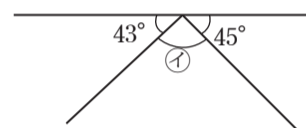
③ 次の図の㉗～㉓の角の大きさをそれぞれ求めなさい。ただし、(5)～(7)は1組の三角じょうぎを組み合わせたものです。

(1)



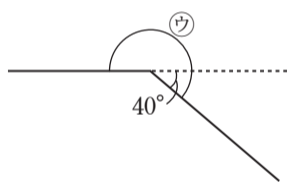
_____度

(2)



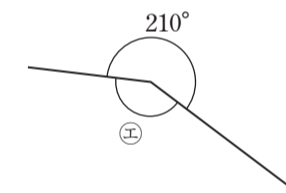
_____度

(3)



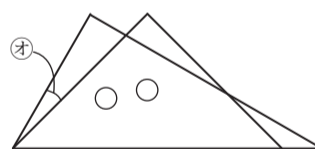
_____度

(4)



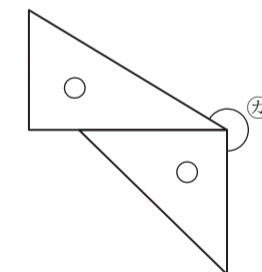
_____度

(5)



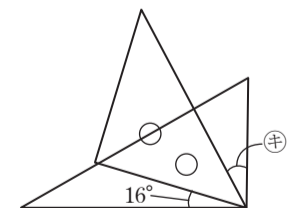
_____度

(6)



_____度

(7)



_____度

④ 次の問いに答えなさい。

(1) 6420007900000 を漢字で書きなさい。

(2) 六百三十億五万九千二を数字で書きなさい。

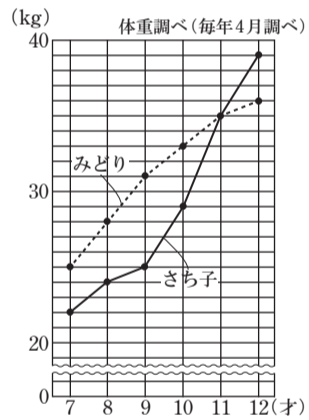
(3) 千億を7こ, 百億を4こ, 十億を6こ, 1億を5こ, 千万を8こあわせた数を数字で書きなさい。

(4) $28 \times 29 = 812$ を使って 28×2900 を計算しなさい。

(5) 5800 億 + 4200 億を計算しなさい。

⑤ 右のグラフは, さち子さんとみどりさんの体重の変わり方を表したものです。

(1) さち子さんが10才ではかったときの体重は何kgですか。



_____ kg

(2) 2人の体重が同じになったのは何才ではかったときですか。また, そのときの体重は何kgですか。

_____ 才, _____ kg

(3) 2人の体重のちがいがいちばん大きかったのは何才ではかったときですか。また, そのときのちがいは何kgですか。

_____ 才, _____ kg