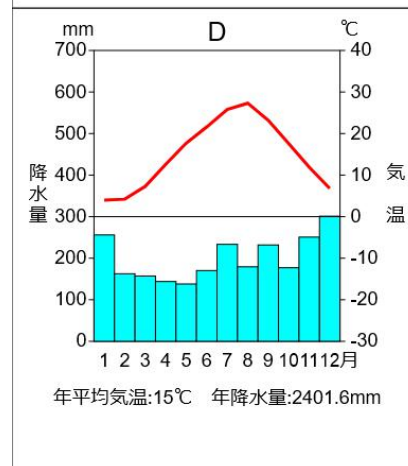
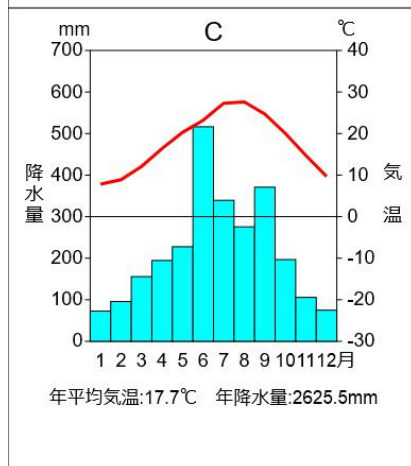
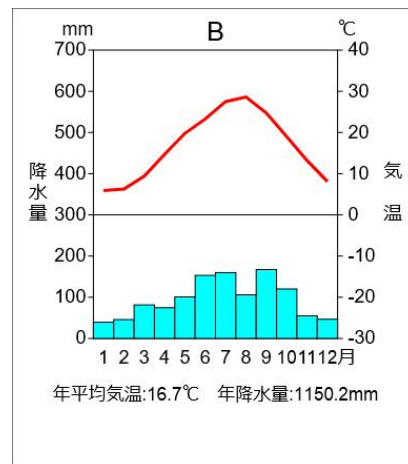
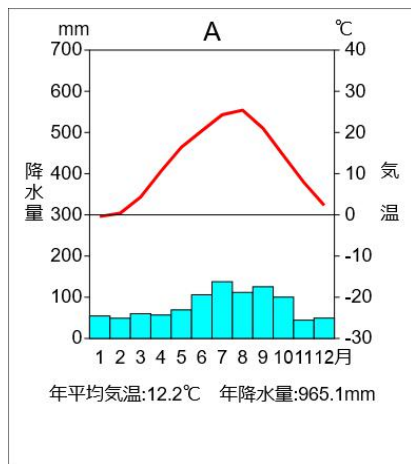


<地理>

問 A~Dは金沢・長野・高松・宮崎のいずれかの都市である。それぞれは、どの都市か。



答え) A 長野 B 高松 C 宮崎 D 金沢

<歴史>

問1 次のア~エを古い順に並び替えよ。

- ア 武家諸法度の制定 イ 分国法が各地で制定される ウ 公事方御定書の制定
エ 御成敗式目の制定

答え) エ→イ→ア→ウ

問2 次のア~エを古い順に並び替えよ。

- ア 国家総動員法の制定 イ 原子爆弾の投下 ウ 犬養毅の暗殺
エ 国際連盟から日本が脱退する

答え) ウ→エ→ア→イ

<公民>

問 三権分立について、国会が内閣に対して行う行為はなにか。次のア~エのうちから選べ。

- ア 衆議院の解散 イ 違憲審査 ウ 国政調査 エ 弾劾裁判

答え) ウ